

Opgave 2 – Wereld: De ontwikkeling van landen rondom de Middellandse Zee

Bij deze opgave horen de bronnen 3 tot en met 5.

Gebruik de bronnen 3 en 4.

- 2p 5 Noteer de naam van het land waar
- het absolute aantal inwoners in steden in 2018 het meest gegroeid is;
 - het verstedelijkingstempo tussen 1960 en 2018 gemiddeld het hoogst was.

Op basis van het bnp/hoofd van Griekenland, Italië en Spanje zou je verwachten dat de score op de HDI van Italië hoger is dan die van Griekenland en Spanje. Dat is echter niet zo.

- 2p 6 Geef
- vanuit de economische dimensie een mogelijke oorzaak waardoor Italië ondanks een relatief hoog bnp/hoofd een relatief lage score heeft op de HDI;
 - vanuit de sociaal-culturele dimensie een mogelijke oorzaak voor de relatief lage score van Italië op de HDI.

Gebruik de bronnen 3 en 5.

In bron 5 staan de leeftijdsgrafieken van Algerije, Egypte, Italië en Turkije.

- 2p 7 Noteer de namen van deze landen op je antwoordblad.
Schrijf achter elk land de letter van de juiste leeftijdsgrafiek.

Gebruik het kaartenkatern.

Geografisch gezien kun je de landen in bron 3 onderverdelen in een groep landen die ten noorden van de Middellandse Zee ligt en een groep landen die ten zuiden van de Middellandse zee ligt.

Uitspraak: los van de geografische ligging kan Turkije beter gerekend worden tot de groep landen die ten zuiden van de Middellandse Zee ligt.

- 2p 8 Geef eerst aan of je het met deze uitspraak eens of oneens bent.
Geef vervolgens twee argumenten voor je keuze.

Opgave 2 – Wereld: De ontwikkeling van landen rondom de Middellandse Zee

bron 3

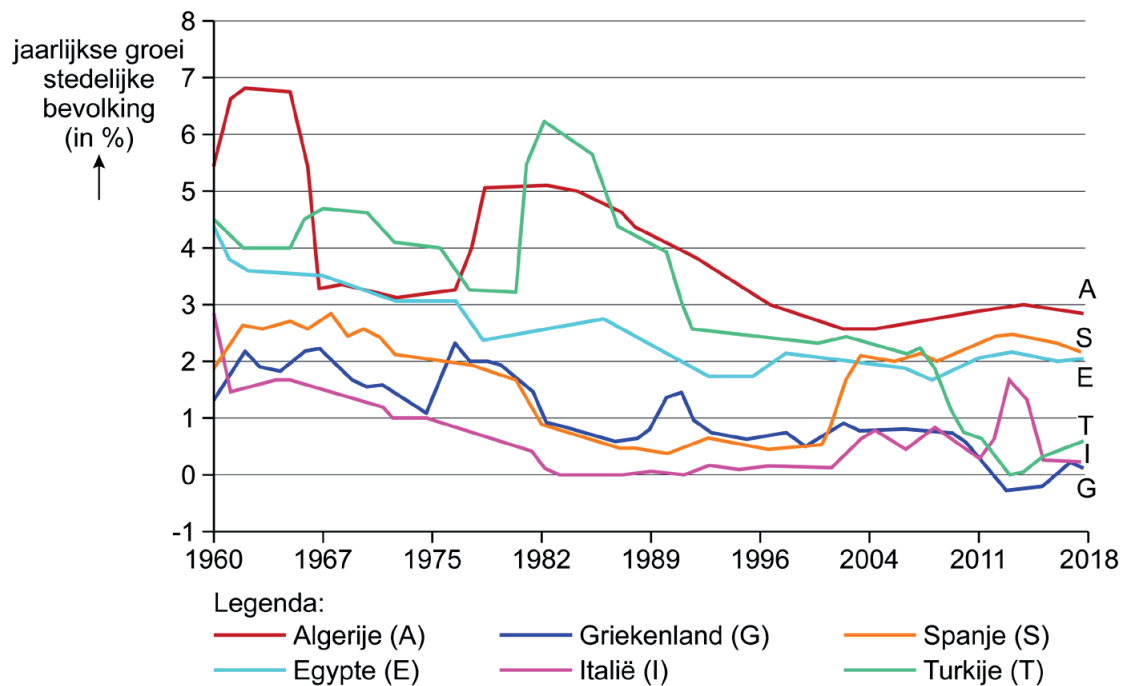
Gegevens van zes landen rondom de Middellandse Zee

	bnp/hoofd in \$ (2019)	HDI ¹⁾ 2019	rangorde HDI 2020	verstedelij- kings- graad (2018)	totaal aantal inwoners 2020
Algerije	11.174	0.75	91	73%	43.851.044
Egypte	11.466	0.71	116	43%	102.334.404
Griekenland	30.155	0.89	32	85%	10.423.054
Italië	42.776	0.89	29	69%	60.461.826
Spanje	40.975	0.90	25	80%	46.754.778
Turkije	27.701	0.82	54	89%	84.339.067

noot 1 De afkorting HDI staat voor Human Development Index / VN-welzijnsindex.

bron 4

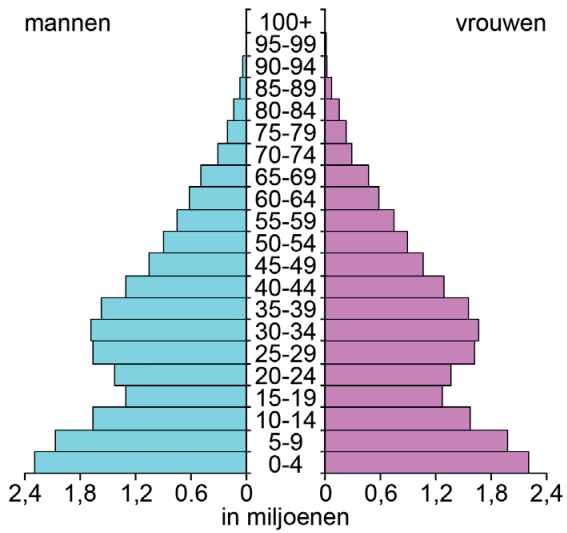
Jaarlijkse groei stedelijke bevolking (in %)



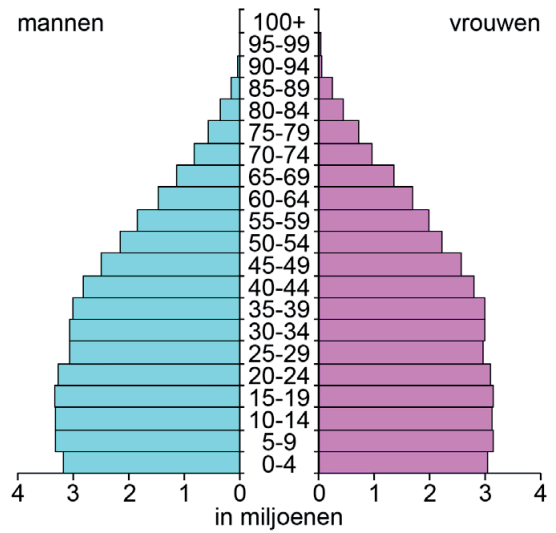
bron 5

Leeftijdsgrafieken van Algerije, Egypte, Italië en Turkije (in willekeurige volgorde)

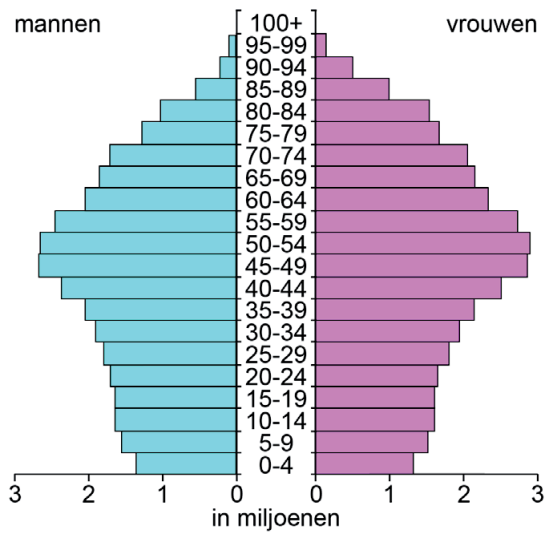
leeftijdsgrafiek a



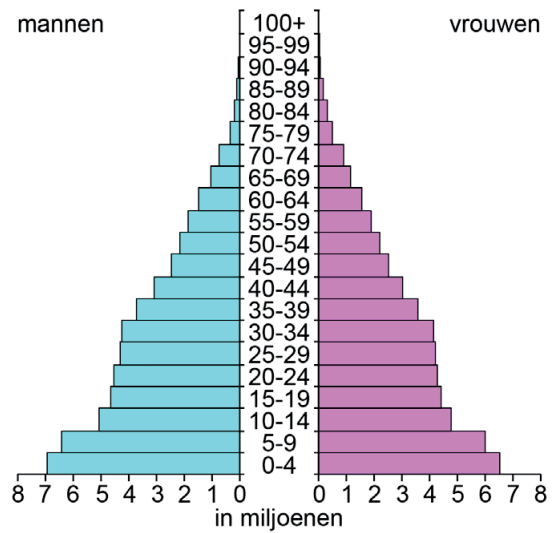
leeftijdsgrafiek b



leeftijdsgrafiek c



leeftijdsgrafiek d



Bronvermelding

Een opsomming van de in dit examen gebruikte bronnen, zoals teksten en afbeeldingen, is te vinden in het bij dit examen behorende correctievoorschrift, dat na afloop van het examen wordt gepubliceerd.